

Pruebas de Acceso a Estudios de Grado- P.A.E.G.

Materia: **Geografía**

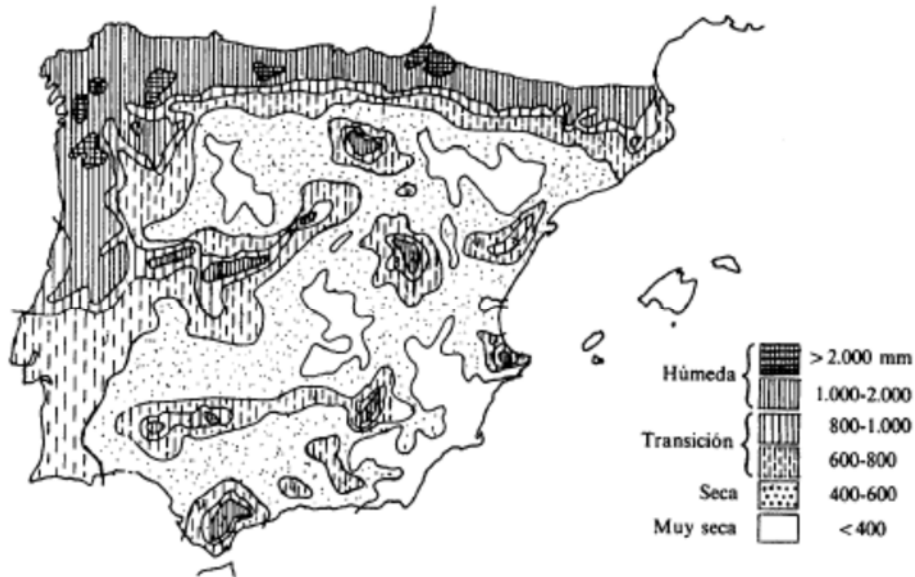
Este examen consta de dos opciones, opción A y B. El alumno deberá contestar **sólo a una de ellas**. Como criterio general de corrección para el conjunto de la prueba se valorará la presentación, la ortografía y la redacción.

## OPCIÓN A:

### I. PRÁCTICA (Puntuación: 3 puntos)

A partir del siguiente mapa de precipitaciones en España, responda a las siguientes cuestiones:

- 1.- Comente la distribución de precipitaciones en España
- 2.- Causas que explican la desigual distribución de precipitaciones.
- 3.- Consecuencias que se pueden derivar.



### II. TEMA (Puntuación: 3 puntos)

Desarrolle el siguiente tema:

- El transporte y las comunicaciones. Características y tipos de redes de transporte. Las comunicaciones.
- 

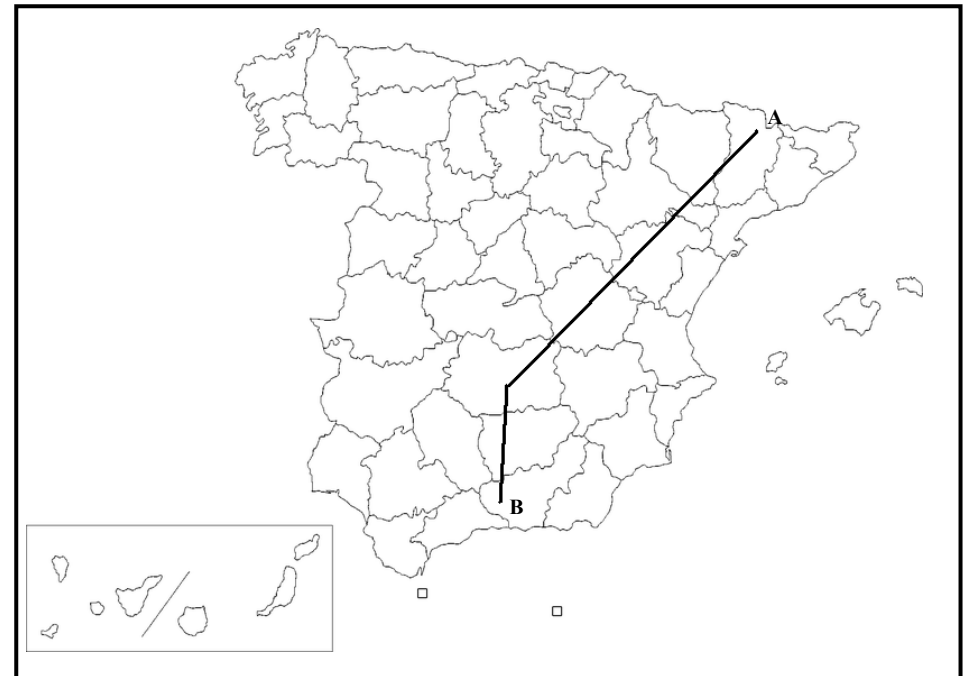
### III. CONCEPTOS (Puntuación: 2 puntos)

Defina con la mayor precisión posible, y de forma breve, estos **cuatro** conceptos e indique, siempre y cuando sea posible, un ejemplo relativo a España o a Castilla-La Mancha:

- Tratado de Maastricht; Cerro testigo; Censo; Conurbación.
- 

### IV. LOCALIZACIÓN (Puntuación: 2 puntos)

Cite las unidades del relieve, ríos y provincias que atraviesa la línea desde "A" hasta "B".



Pruebas de Acceso a Estudios de Grado- P.A.E.G.

Materia: **Geografía**

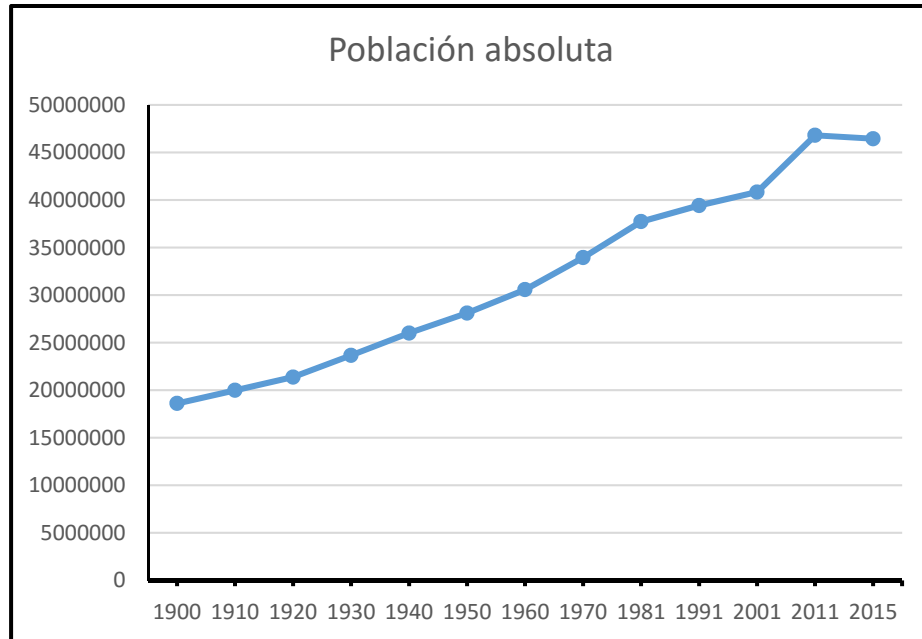
Este examen consta de dos opciones, opción A y B. El alumno deberá contestar **sólo a una de ellas**. Como criterio general de corrección para el conjunto de la prueba se valorará la presentación, la ortografía y la redacción

## **OPCIÓN B:**

### **I. PRÁCTICA (Puntuación: 3 puntos)**

Comente el siguiente gráfico de evolución de la población en España (1900-2015), respondiendo a las siguientes cuestiones:

- 1.- Evolución de la población en España.
- 2.- Factores que influyen en el crecimiento demográfico a lo largo del siglo XX
- 3.- Factores que influyen en el estancamiento demográfico entre 2011 y 2015



### **II. TEMA (Puntuación: 3 puntos)**

Desarrolle el siguiente tema:

-Historia geológica y relieves morfoestructurales: zócalos, macizos antiguos, cuencas sedimentarias, cordilleras de plegamiento.

-----

### **III. CONCEPTOS (Puntuación: 2 puntos)**

Defina con la mayor precisión posible, y de forma breve, estos **cuatro** conceptos e indique, siempre y cuando sea posible, un ejemplo relativo a España o a Castilla-La Mancha:

Latitud; Gota fría; Plano irregular; Aparcería.

-----

### **IV. LOCALIZACIÓN (Puntuación: 2 puntos)**

Cite las unidades del relieve, ríos y provincias que atraviesa la línea desde "A" hasta "B".

